

平成 22 年度 前期（造形）解答例

■問題 I

【出題意図】

三平面から立体への展開能力を問う。

解答

図 1 の立体

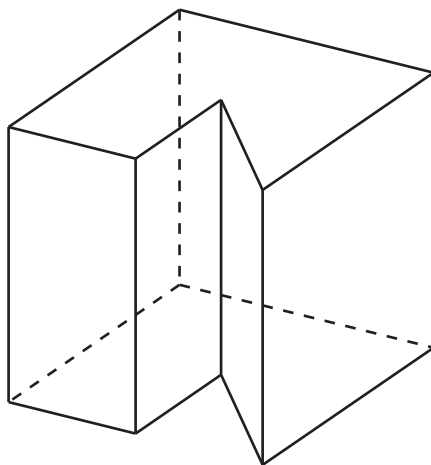
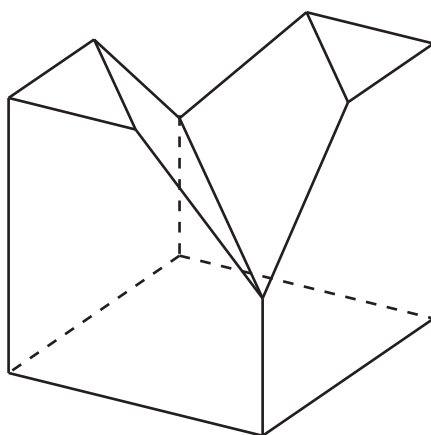


図 2 の立体

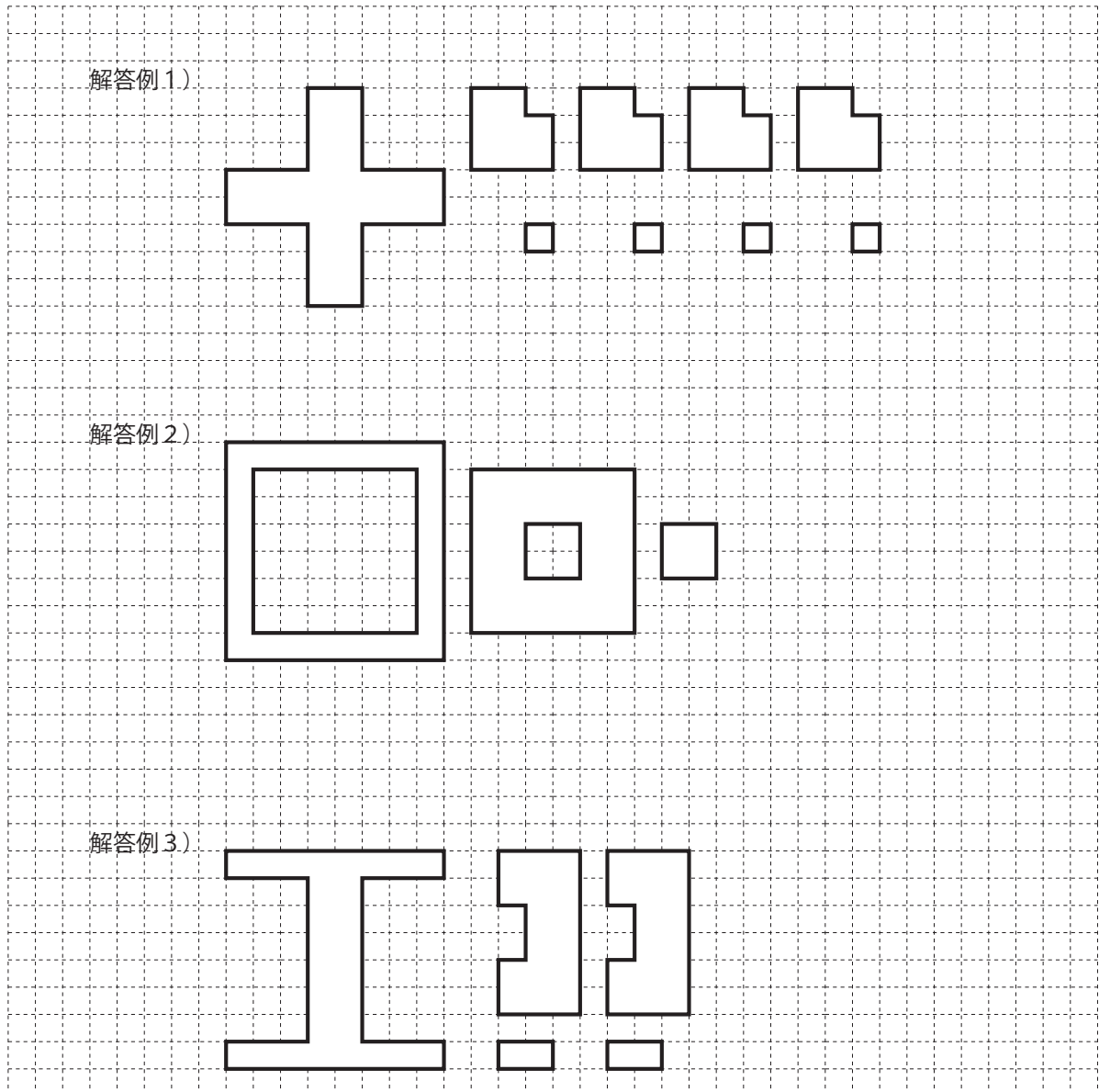


## ■問題Ⅱ

### 【出題意図】

記述に対する与条件の的確な理解と、平面図形に対する論理的な思考展開能力を問う。

### 解答例



## ■問題Ⅲ

### 【出題意図】

記述に対する与条件の的確な理解と、それらを画面上で効果的に構成して写実的に描写する能力を問う。

### 【採点基準】

- ・与えられた条件を満たしているか
- ・形が正確に描けているか
- ・構図は適切か
- ・立体の形状や材質を正確に伝える基礎的な描写力があるか